

#1

HAYVANLAR



Kaç tane kedi var?

2

tane

1

tane

3

tane

Cevabım:

#2

HAYVANLAR



Kaç tane köpek var?

1

tane

2

tane

4

tane

Cevabım:

#3

HAYVANLAR



Kaç tane fil var?

2

tane

3

tane

5

tane

Cevabım:

#4

HAYVANLAR



Kaç tane aslan var?

4

tane

2

tane

6

tane

Cevabım:

#5

HAYVANLAR



Kaç tane balık var?

3

tane

5

tane

7

tane

Cevabım:

#6

HAYVANLAR



Kaç tane kuş var?

4

tane

6

tane

8

tane

Cevabım:

#7

HAYVANLAR



Kaç tane kaplumbağa?

5

tane

9

tane

7

tane

Cevabım:

#8

HAYVANLAR



Kaç tane tavşan var?

6

tane

8

tane

10

tane

Cevabım:

#9

HAYVANLAR



Kaç tane inek var?

7

tane

11

tane

9

tane

Cevabım:

#10

HAYVANLAR



Kaç tane kurbağa var?

8

tane

10

tane

12

tane

Cevabım:

#11

HAYVANLAR



Kaç tane kelebek var?

2

tane

4

tane

1

tane

Cevabım:

#12

HAYVANLAR



Kaç tane ayı var?

5

tane

3

tane

1

tane

Cevabım:

#13

HAYVANLAR



Kaç tane tilki var?

6

tane

2

tane

4

tane

Cevabım:

#14

HAYVANLAR



Kaç tane penguen var?

3

tane

7

tane

5

tane

Cevabım:

#15

HAYVANLAR



Kaç tane inek var?

6

tane

4

tane

8

tane

Cevabım:

#16

HAYVANLAR



Kaç tane kartal var?

5

tane

7

tane

9

tane

Cevabım:

#17

HAYVANLAR



Kaç tane yılan var?

8

tane

6

tane

10

tane

Cevabım:

#18

HAYVANLAR



Kaç tane zürafa var?

7

tane

9

tane

11

tane

Cevabım:

#19

HAYVANLAR



Kaç tane kurt var?

10

tane

8

tane

6

tane

Cevabım:

#20

HAYVANLAR



Kaç tane zebra var?

3

tane

1

tane

2

tane

Cevabım:

#21

ŞEKİLLER



Kaç tane kırmızı daire?

1

tane

3

tane

2

tane

Cevabım:

#22

ŞEKİLLER



Kaç tane mavi daire?

4

tane

2

tane

1

tane

Cevabım:

#23

ŞEKİLLER



Kaç tane sarı daire?

2

tane

3

tane

5

tane

Cevabım:

#24

ŞEKİLLER



Kaç tane yeşil daire?

4

tane

6

tane

2

tane

Cevabım:

#25

ŞEKİLLER



Kaç tane turuncu eşkenar?

3

tane

7

tane

5

tane

Cevabım:

#26

ŞEKİLLER



Kaç tane mavi eşkenar?

6

tane

4

tane

8

tane

Cevabım:

#27

ŞEKİLLER



Kaç tane yıldız?

5

tane

7

tane

9

tane

Cevabım:

#28

ŞEKİLLER



Kaç tane yıldız?

8

tane

6

tane

10

tane

Cevabım:

#29

ŞEKİLLER



Kaç tane üçgen?

7

tane

11

tane


9

tane

Cevabım:

#30

ŞEKİLLER



Kaç tane üçgen?

8

tane

10

tane

12

tane

Cevabım:

#31

ŞEKİLLER



Kaç tane kırmızı kare?

2

tane

1

tane

3

tane

Cevabım:

#32

ŞEKİLLER



Kaç tane mavi kare?

1

tane

2

tane

4

tane

Cevabım:

#33

ŞEKİLLER



Kaç tane yeşil kare?

3

tane

5

tane

1

tane

Cevabım:

#34

ŞEKİLLER



Kaç tane kalp?

2

tane

6

tane

4

tane

Cevabım:

#35

ŞEKİLLER



Kaç tane kalp?

5

tane

3

tane


7

tane

Cevabım:

#36

ŞEKİLLER



Kaç tane mor daire?

4

tane

6

tane

8

tane

Cevabım:

#37

ŞEKİLLER



Kaç tane elmas şekli?

7

tane

5

tane

9

tane

Cevabım:

#38

ŞEKİLLER



Kaç tane elmas şekli?

6

tane

8

tane

10

tane

Cevabım:

#39

ŞEKİLLER



Kaç tane küçük eşkenar?

9

tane

7

tane

11

tane

Cevabım:

#40

ŞEKİLLER



Kaç tane küçük eşkenar?

8

tane

12

tane

10

tane

Cevabım:

#41

SEBZE & MEYVE



Kaç tane elma var?

1

tane

3

tane

2

tane

Cevabım:

#42

SEBZE & MEYVE



Kaç tane muz var?

4

tane

2

tane

1

tane

Cevabım:

#43

SEBZE & MEYVE



Kaç tane çilek var?

2

tane

3

tane

5

tane

Cevabım:

#44

SEBZE & MEYVE



Kaç tane portakal var?

4

tane

2

tane

6

tane

Cevabım:

#45

SEBZE & MEYVE



Kaç tane üzüm salkımı?

3

tane

7

tane

5

tane

Cevabım:

#46

SEBZE & MEYVE



Kaç tane havuç var?

6

tane

4

tane

8

tane

Cevabım:

#47

SEBZE & MEYVE



Kaç tane domates var?

5

tane

7

tane

9

tane

Cevabım:

#48

SEBZE & MEYVE



Kaç tane brokoli var?

8

tane

6

tane

10

tane

Cevabım:

#49

SEBZE & MEYVE



Kaç tane limon var?

7

tane

9

tane

11

tane

Cevabım:

#50

SEBZE & MEYVE



Kaç tane kiraz var?

8

tane

12

tane

10

tane

Cevabım:

#51

SEBZE & MEYVE



Kaç tane kivi var?

2

tane

1

tane

3

tane

Cevabım:

#52

SEBZE & MEYVE



Kaç tane şeftali var?

2

tane

4

tane

1

tane

Cevabım:

#53

SEBZE & MEYVE



Kaç tane mısır var?

5

tane

3

tane

1

tane

Cevabım:

#54

SEBZE & MEYVE



Kaç tane patlıcan var?

2

tane

4

tane

6

tane

Cevabım:

#55

SEBZE & MEYVE



Kaç tane marul var?

5

tane

3

tane

7

tane

Cevabım:

#56

SEBZE & MEYVE



Kaç tane karpuz var?

4

tane

8

tane

6

tane

Cevabım:

#57

SEBZE & MEYVE



Kaç tane avokado var?

7

tane

5

tane

9

tane

Cevabım:

#58

SEBZE & MEYVE



Kaç tane yaban mersini?

6

tane

8

tane

10

tane

Cevabım:

#59

SEBZE & MEYVE



Kaç tane ananas var?

7

tane

11

tane


9

tane

Cevabım:

#60

SEBZE & MEYVE



Kaç tane zeytin var?

10

tane

8

tane

12

tane

Cevabım:

#61

ARAÇLAR & EV



Kaç tane araba var?

1

tane

3

tane

2

tane

Cevabım:

#62

ARAÇLAR & EV



Kaç tane otobüs var?

4

tane

2

tane

1

tane

Cevabım:

#63

ARAÇLAR & EV



Kaç tane tren var?

2

tane

5

tane

3

tane

Cevabım:

#64

ARAÇLAR & EV



Kaç tane uçak var?

4

tane

2

tane

6

tane

Cevabım:

#65

ARAÇLAR & EV



Kaç tane bisiklet var?

3

tane

7

tane

5

tane

Cevabım:

#66

ARAÇLAR & EV



Kaç tane ev var?

6

tane

4

tane

8

tane

Cevabım:

#67

ARAÇLAR & EV



Kaç tane sandalye var?

5

tane

7

tane

9

tane

Cevabım:

#68

ARAÇLAR & EV



Kaç tane yatak var?

8

tane

6

tane

10

tane

Cevabım:

#69

ARAÇLAR & EV



Kaç tane kapı var?

7

tane

9

tane

11

tane

Cevabım:

#70

ARAÇLAR & EV



Kaç tane lamba var?

8

tane

12

tane

10

tane

Cevabım:

#71

ARAÇLAR & EV



Kaç tane helikopter?

2

tane

1

tane

3

tane

Cevabım:

#72

ARAÇLAR & EV



Kaç tane gemi var?

2

tane

4

tane

1

tane

Cevabım:

#73

ARAÇLAR & EV



Kaç tane kamyonet var?

5

tane

1

tane

3

tane

Cevabım:

#74

ARAÇLAR & EV



Kaç tane itfaiye var?

2

tane

4

tane

6

tane

Cevabım:

#75

ARAÇLAR & EV



Kaç tane ambulans var?

5

tane

3

tane

7

tane

Cevabım:

#76

ARAÇLAR & EV



Kaç tane küvet var?

4

tane

8

tane

6

tane

Cevabım:

#77

ARAÇLAR & EV



Kaç tane kanepeler var?

7

tane

5

tane

9

tane

Cevabım:

#78

ARAÇLAR & EV



Kaç tane pencere var?

6

tane

8

tane


10

tane

Cevabım:

#79

ARAÇLAR & EV



Kaç tane ayna var?

9

tane

7

tane

11

tane

Cevabım:

#80

ARAÇLAR & EV



Kaç tane alışveriş arabası var?

8

tane

10

tane

12

tane

Cevabım:

#81

OKUL EŞYALARI



Kaç tane kalem var?

1

tane

3

tane

2

tane

Cevabım:

#82

OKUL EŞYALARI



Kaç tane kitap var?

4

tane

2

tane

1

tane

Cevabım:

#83

OKUL EŞYALARI



Kaç tane cetvel var?

2

tane

3

tane

5

tane

Cevabım:

#84

OKUL EŞYALARI



Kaç tane makas var?

4

tane

6

tane

2

tane

Cevabım:

#85

OKUL EŞYALARI



Kaç tane boya kalemi?

3

tane

7

tane

5

tane

Cevabım:

#86

OKUL EŞYALARI



Kaç tane çanta var?

6

tane

4

tane


8

tane

Cevabım:

#87

OKUL EŞYALARI



Kaç tane gönye var?

5

tane

7

tane

9

tane

Cevabım:

#88

OKUL EŞYALARI



Kaç tane defter var?

8

tane

6

tane

10

tane

Cevabım:

#89

OKUL EŞYALARI



Kaç tane tükenmez kalem?

7

tane

11

tane

9

tane

Cevabım:

#90

OKUL EŞYALARI



Kaç tane raptiye var?

8

tane

10

tane

12

tane

Cevabım:

#91

OKUL EŞYALARI



Kaç tane ataş var?

2

tane

1

tane

3

tane

Cevabım:

#92

OKUL EŞYALARI



Kaç tane bilgisayar?

1

tane

2

tane

4

tane

Cevabım:

#93

OKUL EŞYALARI



Kaç tane çöp kutusu?

3

tane

5

tane

1

tane

Cevabım:

#94

OKUL EŞYALARI



Kaç tane not defteri?

2

tane

4

tane

6

tane

Cevabım:

#95

OKUL EŞYALARI



Kaç tane defter var?

5

tane

3

tane

7

tane

Cevabım:

#96

OKUL EŞYALARI



Kaç tane dosya var?

4

tane

8

tane

6

tane

Cevabım:

#97

OKUL EŞYALARI



Kaç tane anahtar var?

7

tane

5

tane

9

tane

Cevabım:

#98

OKUL EŞYALARI



Kaç tane dolmakalem?

6

tane

8

tane

10

tane

Cevabım:

#99

OKUL EŞYALARI



Kaç tane günlük defter?

9

tane

7

tane

11

tane

Cevabım:

#100

OKUL EŞYALARI



Kaç tane kupa var?

8

tane

10

tane

12

tane

Cevabım: